


# MEYVELERLE DENGE!

Aşağıdaki terazilerde meyvelerin kütlelerini bulalım.  
Boş bırakılan yere uygun kütleyi yazalım.

1



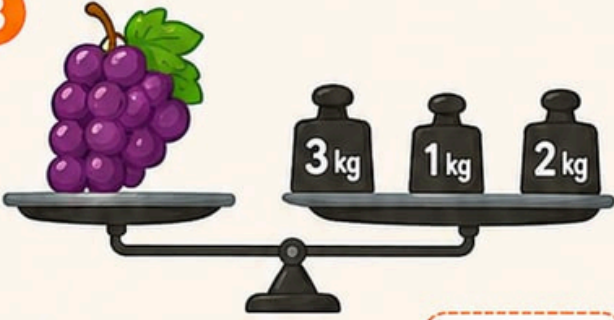
Karpuzun kütlesi kaç kilogramdır? ..... kg

2



Muzların toplam kütlesi kaç kilogramdır? ..... kg

3



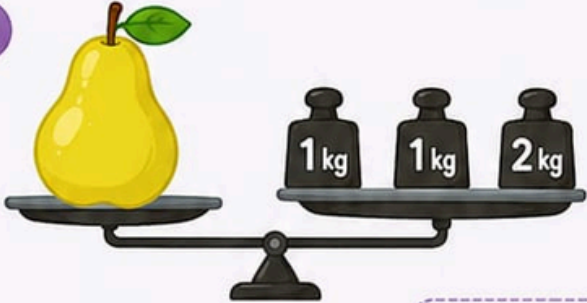
Üzümlerin kütlesi kaç kilogramdır? ..... kg

4



Elmanın kütlesi kaç kilogramdır? ..... kg

5



Armutun kütlesi kaç kilogramdır? ..... kg

6



Portakalın kütlesi kaç kilogramdır? ..... kg

**Unutma!**

Terazide iki tarafın kütleleri eşit olmalıdır.

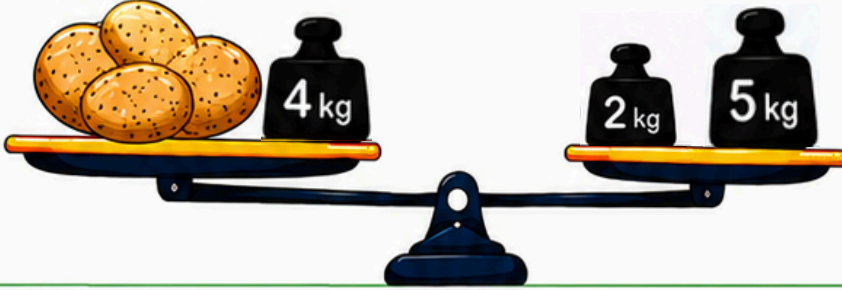



# TERAZİLERİ DENGELİYELİM!



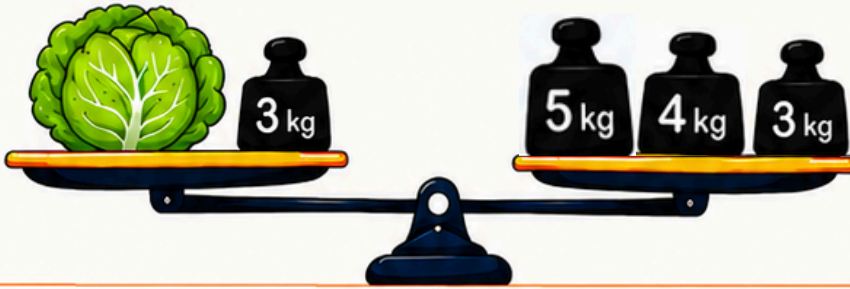
Aşağıdaki terazilerde sebzelerin kütlelerini bulalım.  
Boş bırakılan yere uygun kütleyi yazalım.


1



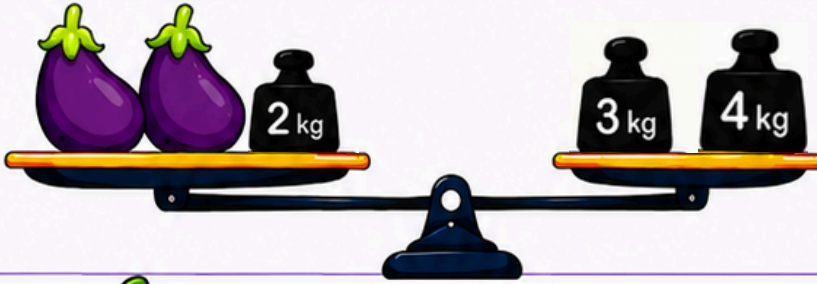
 = ..... kg


2



 = ..... kg


3




 = ..... kg


4




 = ..... kg


5



 = ..... kg

6



 = ..... kg

