


Defne'nin 19 kalemı vardır. Zeynep'in ise 27 kalemı var. İki arkadaşın toplam kaç kalemı vardır?

1)



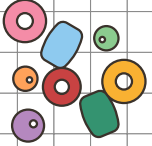
Ayşen ağaçta 18 kuş gördü. Sonra parka 16 kuş daha geldi. Ağaçta kaç kuş oldu?

2)



Gaye bahçeden 46 tane boncuk aldı. Teyzesi ona 24 tane daha boncuk verdi. Gaye'nin kaç boncuğu oldu?

3)



Bir simitçi sabah 34 tane, akşam ise 19 tane simit satmıştır. Bir günde kaç tane simit satmıştır?

4)



Sınıfımızda 15 erkek, 13 kız öğrenci olduğuna göre sınıfımızın mevcudu (tüm öğrencilerin sayısı) kaçtır?

5)



Sınıf kitaplığımızda 56 kitap vardı. Öğretmenimiz 28 kitap daha ekledi. Kitaplığımızda kaç tane kitap oldu?

6)



84

28

53

70

46

34

2.SINIF

TOPLAMA İŞLEMİ PROBLEMLERİ-1


Neriman'ın 54 lira parası vardı. Annesi 37 lira daha verdi. Neriman'ın kaç lira parası oldu?

7)




Araba çekicisi bir ay boyunca 26 araba, 13 minibüs taşımıştır. Çekici bir ayda kaç araç taşımıştır?

8)



Bir bakkal cumartesi günü 23 yumurta, pazar günü ise 49 yumurta satmıştır.

9)



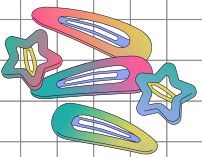
Yavru sincap öğle vakti 38 tane fındık, akşam vakti ise 47 tane fındık topladı. Sincap toplam kaç tane fındık toplamıştır?

10)



Ayşegül'ün 1 düzine tokası vardı. Halası 19 toka daha aldı. Ayşegül'ün toplam kaç tokası oldu?

11)



Baloncu amca sahilde 29 tane balon sattı. 18 tane de okulun önünde sattı. Baloncu amca toplam kaç balon satmıştır?

12)



47

91

85

39

72

31


Üç Verilenli Toplama Problemleri

2.SINIF

TOPLAMA İŞLEMİ PROBLEMLERİ-1

Bir kümeste 25 tavuk, 18 horoz ve 36 tane civciv olduğuna göre kümeste kaç tane hayvan vardır?

(13)



Hüseyin, marketten 25 TL'ye ekmek, 27 TL'ye ayran ve 46 TL'ye makarna aldı. Hüseyin aldıkları için kaç TL ödemelidir?

(14)




Gaye bayramda 30 lira para topladı. Anneanesi 20 lira, dedesi de 45 lira verdi. Yiğit'in kaç lira parası oldu?

(15)



Ahmet ağaçtan 18 kg elma, Hakan 23 kg elma, Gökhan ise 16 kg elma topladı. Üç arkadaş kaç kg elma toplamışlardır?

(16)



Nisa hafta sonu 36 sayfa, Elif 13 sayfa, İrem ise 27 sayfa kitap okudu. Üç kardeş toplam kaç sayfa kitap okumuştur?

(17)



Bir otobüste 34 yolcu vardı. 1. durakta otobüse 12 yolcu bindi. 2. durakta ise 19 yolcu daha bindi. Otobüste toplam kaç yolcu oldu?

(18)



57

89

65

98

95

86