


- 1) 3 arkadaşın kalemleri toplamı 18'dir. Kalemleri eşit bir biçimde paylaşırlarsa her birine kaç kalem düşer?



- 5) 35 kitabı 5 rafa eşit olarak yerleştirirsek bir rafa kaç kitap koyabiliriz?



- 2) 32 litrelik zeytinyağını 4 litrelik şişelere doldurmak için kaç tane şişeye ihtiyavımız olur?




- 6) Bir kümesteki tavukların ayak sayıları 16 olduğuna göre bu kümeste kaç tavuk vardır?




- 3) 27 öğrenci sıralara 3'erli oturlarsa kaç tane sıraya ihtiyaç vardır?



- 7) Halam 24 kilogram pudra şekerini 3 kilogramlık poşetlere koymak istiyor. Halamın kaç poşete ihtiyacı vardır?



- 4) Öğretmenim elindeki 2 deste şekerini 5 öğrenciye paylaştırıyor. Her öğrenciye kaç şeker düşer?




- 8) Elif ve dört kardeşi annelerinin verdiği 40 cevizi aralarında eşit bir şekilde bölüşüyorlar. Her birine kaç ceviz düşer?



9) 2 düzine fındığı 3 arkadaş paylaşırsa her birine kaç fındık düşer?




10) Beril ve üç kardeşi babalarının verdiği 36 balonu eşit bir şekilde bölüştüler. Her birine kaç balon düştü?




11) Her gün 4 ekmek tüketen bir aile 28 ekmeği kaç günde tüketir?



12) Annem 4 kilogram elmaya 36 lira vermiştir. Buna göre elmanın kilosu ne kadardır?




13) Bir terzi 20 metre ipi 4 metrelik parçalara ayırarak kullanıyor. Kaç parça ip olur?



14) Ahmet 40 sayfalık kitabın her gün 5 sayfasını okursa kitabı kaç günde bitirir?



15) Ayşe Hanım 15 dilim keki 3 çocuğunun beslenme çantasına paylaştırmıştır. Her çocuğun beslenme çantasına kaç dilim kek koymuştur?



16) Asya'ya bayramda 2 kardeşiyle paylaşması için dedesi 13 lira, babası 8 lira vermiş. Her bir kardeşe kaç lira düşer?

