


1.

Ayşe'nin 8 kalemi var. Annesi de Ayşe'ye 7 kalem aldı. Ayşe'nin toplam kaç kalemi oldu?



(15) (12) (16)

2.

Kumbaramda 5 lira vardı. Babam 9 lira daha verdi. Kumbaramda kaç liram oldu?



(17) (25) (14)

3.


Canan 9 yaşındadır. Canan'ın küçük kardeşi ise 4 yaşındadır. Canan ve kardeşinin yaşları toplamı kaçtır?



(17) (13) (15)

4.

Bir meyve bahçesinde 9 erik ağacı, 8 tane de elma ağacı vardır. Bu meyve bahçesinde kaç tane meyve ağacı vardır?



(15) (12) (17)

5.

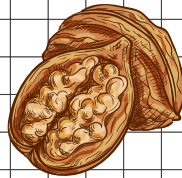
Burak'ın 15 tane hikaye kitabı vardı. Doğum gününde 8 kitap da babası aldı. Burak'ın kaç hikaye kitabı oldu?



(19) (12) (23)

6.

Annem kek için 12 ceviz kırdı. Cevizler yetmeyince 9 ceviz daha kırdı. Annem kaç ceviz kırmıştır?



(11) (19) (21)

Aşağıda verilen problemleri çizgilerinden keserek defterimize yapıştıralım. Problemlerin cevaplarını her sorunun altına işlem yaparak yapalım.

1.Sınıf

## TOPLAMA PROBLEMLERİ-2

👉1. Bir futbolcu ilk sezon 16 gol atmıştır. Sonraki sezon da 8 gol atmıştır. Bu futbolcu toplam kaç gol atmıştır?

👉2. Bir ağaçta 9 kuş vardı. 6 kuş daha ağaca kondu. Ağaçta toplam kaç kuş oldu?

👉3. Trende 18 yolcu vardı. Durakta 8 yolcu daha bindi. Trende kaç yolcu oldu?

👉4. Meral'in 15 tane tokası vardı. Ablası okuma hediyesi olarak Meral'e 9 toka daha verdi. Meral'in kaç tokası oldu?

👉5. Zehra salı günü 7 sayfa, pazar günü 9 sayfa kitap okudu. Zehra toplam kaç sayfa kitap okudu?

👉6. Fatih'in 8 bilyesi vardı. 12 bilye de arkadaşı Aras verdi. Fatih'in kaç bilyesi oldu?



1)

Seda tatilde ilk gün 8 Matematik sorusu, ikinci gün 7 Türkçe sorusu, üçüncü gün de 9 Hayat Bilgisi sorusu çözdü. Seda toplamda kaç soru çözmüştür?

2)

Pencereden sokağı izlerken park eden arabaları saydım. 5 tane kırmızı, 6 tane siyah ve 3 tane gri arabanın park ettiğini gördüm. Park etmiş toplamda kaç araba vardır?

3)

Bir simitçi sabah 12 simit, öğle vakti 9 simit, akşam da 5 simit satmıştır. Simitçi toplam kaç simit satmıştır?

4)

Oturduğumuz binanın birinci katında 6 kişi, ikinci katında 9 kişi, üçüncü katında ise 4 kişi yaşamaktadır. Binada yaşayan toplam kişi sayısı kaçtır?

5)

Jale'nin 4 kalemi vardı. 6 kalem ağabeyi verdi. Jale'nin yedek kalem kutusunda da 8 kalem olduğuna göre Jale'nin toplam kaç kalemi oldu?

6)

Otobüste 7 yolcu vardı. İlk durakta otobüse 8 yolcu, ikinci durakta ise 6 yolcu daha bindi. Otobüste kaç yolcu oldu?